




গোলাপ ফুলৰ বাগিচা


বিৰিণাহঁতৰ ফুলৰ বাগিচাত বিভিন্ন বঙৰ গোলাপ ফুল ফুলি আছিল। তাইৰ বান্ধৱীহঁতে সিহঁতৰ বাগিচাখন চাবলৈ আহিছিল। সিহঁতে এটা কথা মন কৰিলে যে গোলাপ ফুলৰ গছবোৰ এটা সাজোনত ৰোৱা আছে। সাজোনটোত ৰঙা গোলাপ ফুলৰ দুয়োকাষে হালধীয়া গোলাপ আৰু হালধীয়া গোলাপৰ দুয়োকাষে গোলাপী গোলাপ ফুল। তলৰ ছবিখনত সাজোনটো চোৱা।



নিজে সাজা- তলত দিয়া ফুলবোৰত ৰং কৰি এটা সাজোন সাজা



তলৰ চানেকিবোৰ সম্পূৰ্ণ কৰা



তলৰ চানেকিবোৰ সম্পূৰ্ণ কৰা



খালী ঠাই পূৰ কৰা

১

৩

৫

৭

১

৪

৯

১৬

৪

৮

১২

১৬

৯

১৮

২৭

৩৬

৮

১৬

২৪

৩২

৭

১০৭

২০৭

৩০৭

১৯

২৯

৩৯

৪৯

১১২

২২৩

৩৩৪

৪৪৫

৯২৫

৮২৫

৭২৫

৬২৫

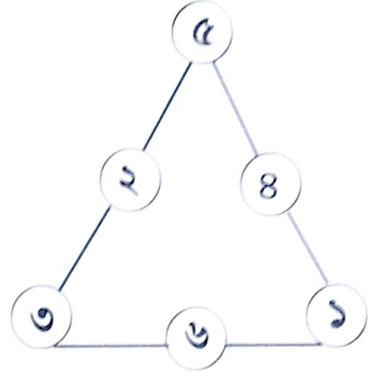


চাওঁ আহা

কাষৰ ত্ৰিভুজৰ ছবিখনত প্ৰতিটো বাহুত থকা সংখ্যাবোৰ একোটা চানেকি।

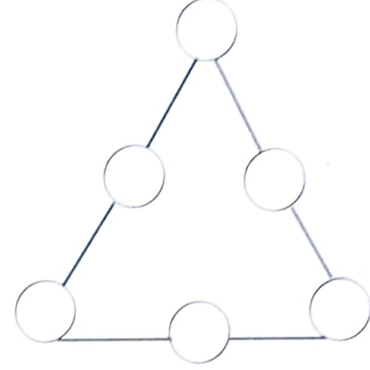
একোটা বাহুত থকা সংখ্যাৰ যোগফল ১০ হয়।

$$\text{যেনে } ৫ + ২ + ৩ = ১০$$

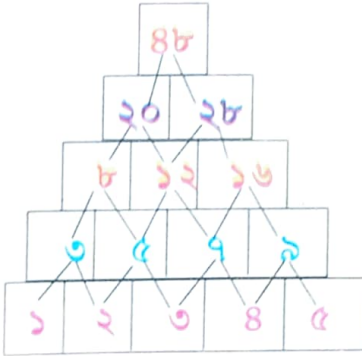


নিজে কৰা

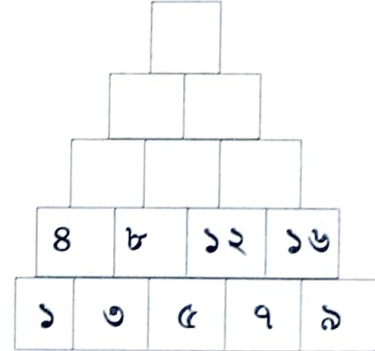
এতিয়া কাষত দিয়া ত্ৰিভুজটোৰ বাহুত থকা খালী ঘৰবোৰত ১ৰ পৰা ৬ৰ ভিতৰত সংখ্যা বহুওৱা। মনত ৰাখিবা প্ৰতিটো বাহুত থকা সংখ্যাৰ যোগফল ৯ হ'ব লাগিব।




তলত দিয়া সংখ্যাৰ চানেকিটো চাওঁ
আহাচোন



এনেদৰে তলত দিয়া সংখ্যাৰ চানেকিটো
পূৰ কৰা



তলৰ চানেকিটো সম্পূৰ্ণ কৰা



তলৰ চানেকিটো পূৰ কৰা

০	+	১	+	২	=	৩
১	+	২	+	৩	=	৬
২	+	৩	+	৪	=
৩	+	৪	+	৫	=
৪	+	৫	+	৬	=
৫	+	৬	+	৭	=
৬	+	৭	+	৮	=
৭	+	৮	+	৯	=

তলৰ চানেকিটো পূৰ কৰা

৬	৩	=	১৮
৯	৩	=	২৭
১২	৩	=	৩৬
১৫	৩	=	৪৫
১৮	৩	=
২১	৩	=
২৪	৩	=

তলৰ চানেকিটো পূৰ কৰা

৩	÷	৩	=	১
৬	÷	৩	=	২
৯	÷	৩	=	৩
১২	÷	৩	=	৪
১৫	÷	৩	=
১৮	÷	৩	=
২১	÷	৩	=




তলৰ চানেকিৰ সাজোনৰ ধৰণবোৰ লিখা




ক খ খ ক খ খ

সাজোনৰ ধৰণ কখখ




সাজোনৰ ধৰণ



সাজোনৰ ধৰণ

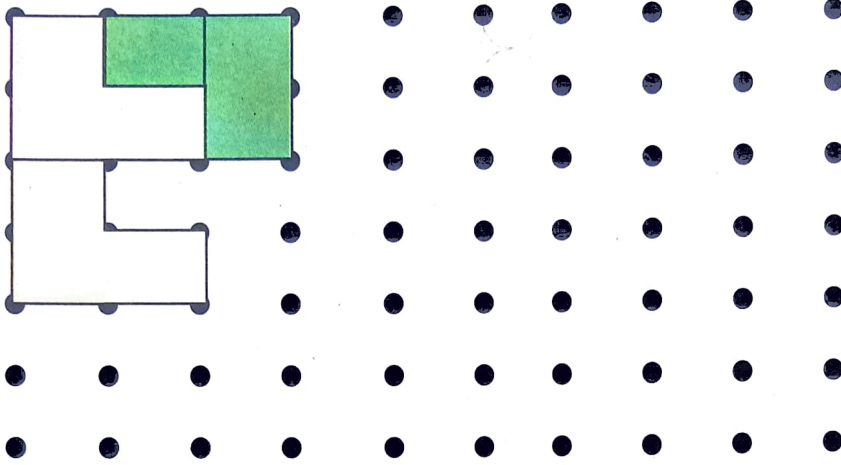


সাজোনৰ ধৰণ

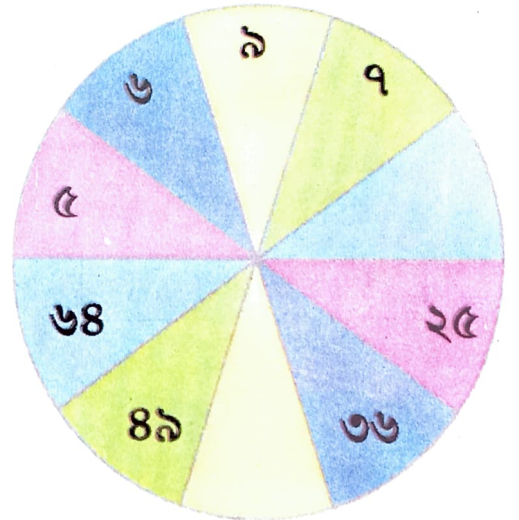
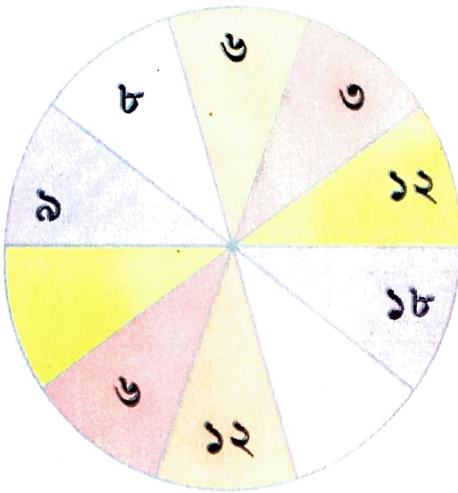


সাজোনৰ ধৰণ

তলত দিয়া আকৃতিৰ সহায়ত টালিৰ চানেকিটো সম্পূৰ্ণ কৰা



তলৰ চানেকি কেইটাত খালী ঠাই পূৰ কৰা



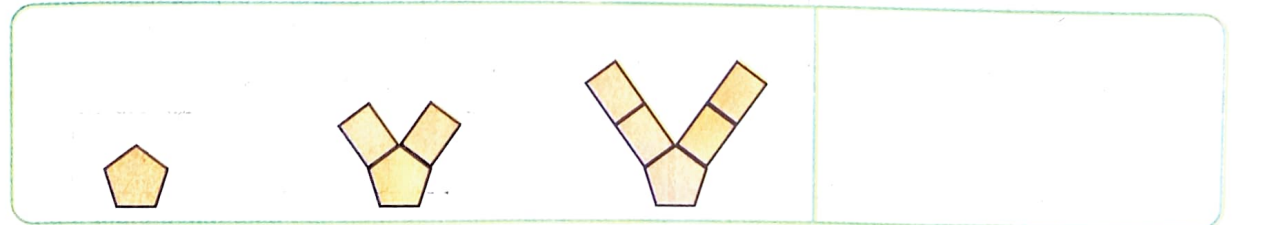
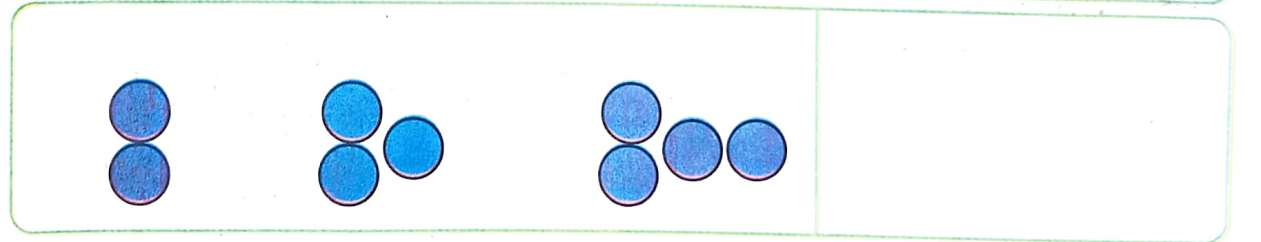

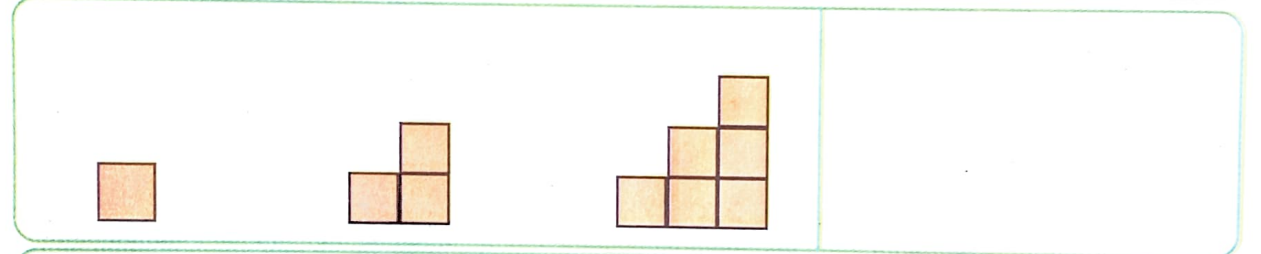
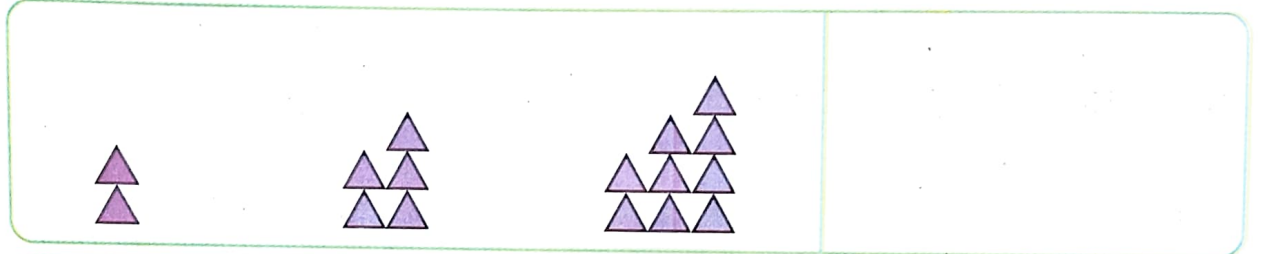


তলৰ চানেকি কেইটাত খালী ঠাই পূৰ কৰা

২৫	২৯	৩৩
২১	২৫	২৯
১৭	২১	২৫
১৩	১৭	২১

৬৪	৩২	১৬	৮
৭২	৩৬	১৮	৯
৮০	৪০	২০	১০
৮৮	৪৪	২২	১১



তলৰ চানেকিবোৰত ঠিক পিচৰ ছবিখন কি হ'ব আঁকা



তলৰ চিত্ৰবিলাকত থকা আঁচডালে চিত্ৰটো সমানে দুভাগ কৰিছে নে? তলৰ খালী ঘৰত হয় বা নহয় লিখা

